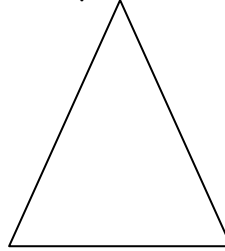

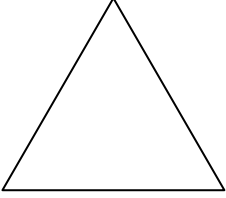




۱- برای شکل های زیر تمام خط های تقارن را رسم کنید و تعداد خط های تقارن هر شکل را بنویسید.



۲- محمد سکه هایش را از قلک در آورد، او ۴ سکه ۲۵۰ ریالی و ۶ سکه ۵۰۰ ریالی داشت او چند تومان پول دارد؟

۳- از ۲ برابر عددی ۷ واحد کم کردیم حاصل عدد ۱۱ شد آن عدد کدام است؟

۴- داخل هر مربع عدد مناسب بنویس.

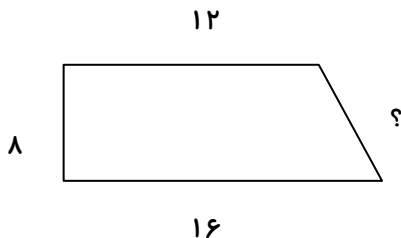
$$\begin{array}{cccccccccccc} 4 & \times & 6 & \rightarrow & \square & \div & 8 & \rightarrow & \square & + & 22 & \rightarrow & \square & \div & 5 & \rightarrow & \square & - & 3 & \rightarrow & \square & \times & 9 & \rightarrow & \square & + & 30 & \rightarrow & \square \end{array}$$

۵- در کلاس ۲ ردیف ۵ تایی نیمکت قرار دارد، اگر روی هر نیمکت ۳ نفر بنشینند این کلاس با آموزگار چند نفر جمعیت دارد؟

۶- برای تقسیم $72 \div 8$ یک مسئله بسازید و پاسخ را پیدا کنید.

۷- اگر محیط مثلث متساوی الساقینی ۲۳ سانتی متر باشد و اندازه دو ضلع آن به ترتیب ۷ و ۸ سانتی متر باشد طول ضلع سوم چند سانتی متر است؟

۸- محیط شکل زیر ۴۵ سانتی متر است اندازه ضلعی که با علامت (?) مشخص شده است چند سانتی متر است؟



۹- حاصل جمع و تفریق های زیر را به روش فرآیندی بدست آورید.

$$\begin{array}{r} 3459 \\ + 2876 \\ \hline \end{array}$$

$$\begin{array}{r} 9487 \\ - 3592 \\ \hline \end{array}$$

۱۰- مریم یک اسکناس ۵۰۰۰ تومانی و یک اسکناس ۲۰۰۰۰ ریالی و دو اسکناس ۱۰۰۰ تومانی و یک اسکناس ۵۰۰ تومانی و سه اسکناس ۱۰۰۰ ریالی دارد، او چقدر پول دارد؟

۱۱- در الگوی شمارشی ۸ تا ۸ تا نهمین عدد کدام است؟

۱۲- مجموع طول و عرض یک مستطیل ۹ سانتی متر است محیط این مستطیل را به دست آورید.

۱۳- در جاهای خالی علامت مناسب $< = >$ بگذار.

(۲) 7×6 $(5 \times 7) \div (1 \times 7)$

(۱) ۳۰۷۰ متر ۳ کیلومتر و ۴۰۰ متر

(۴) 9×7 $900 - 270$

(۳) 6×3 $8 + 8 + 8$

۱۴- در جاهای خالی عدد مناسب بگذار.

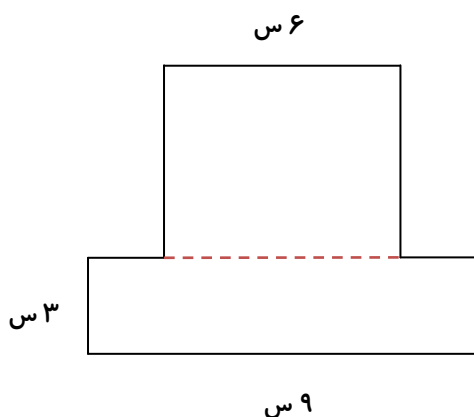
(۱) عددهای سه رقمی از عددهای چهار رقمی است مانند:

(۲) کوچک ترین عدد سه رقمی از بزرگترین عدد دو رقمی است مانند:

(۳) ۲۷۸۰ گرم کیلوگرم و گرم

(۴) ۴ کیلومتر و ۳۹۰ متر می شود متر

۱۵- مساحت شکل زیر را بدست آورید.



۱۶- جاهای خالی را طبق الگو پر کنید.

..... و و ۴۶۰۰ و ۴۵۰۰ و و ۴۳۰۰

..... و ۵۵۹۸ و و و ۵۲۹۸ و ۵۱۹۸ و

۱۷- امیر علی ۵۴۷۰ تومان پول داشت ، با اول ۳۰۰ تومان و با ردوم ۴۷۰۰ ریال آن را خرج کرد حالا او چند تومان پول دارد؟

۱۸- در جاهای خالی کلمه مناسب بنویس.

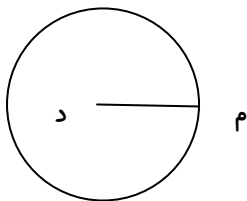
(۱) بهترین وسیله برای رسم دایره است .

(۲) پنج ضلعی قطر دارد.

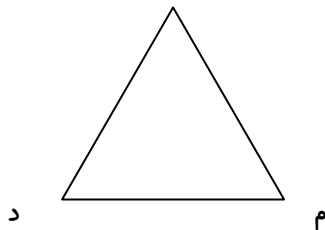
(۳) مثلثی که سه ضلع برابر داشته باشد مثلث نام دارد.

(۴) حاصل ضرب هر عدد در یک برابر است با

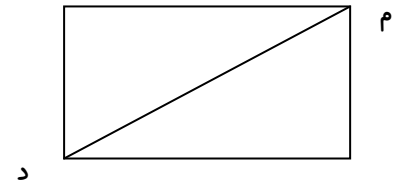
۱۹- پاره خط (م د) در هر شکل چه نام دارد.



.....

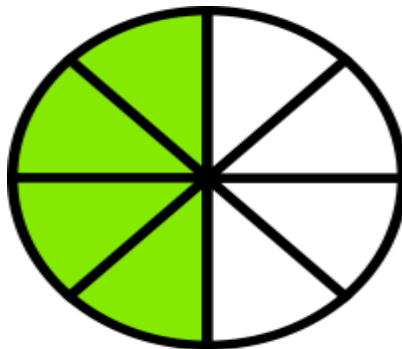


.....



.....

۲۰- برای شکل ۳ کسر مساوی بنویس.



..... = =